

PROVES D'ACCÉS A LA UNIVERSITAT

PRUEBAS DE ACCESO A LA UNIVERSIDAD

CONVOCATÒRIA: JUNY 2010

CONVOCATORIA: JUNIO 2010

GEOGRAFIA

GEOGRAFÍA

BAREM DE L'EXAMEN:

Pregunta 1^a-2'5 punts; pregunta 2^a-2'5 punts; pregunta 3^a-2'5 punts; pregunta 4^a-2'5 punts

BAREMO DEL EXAMEN:

Pregunta 1^a-2'5 puntos; pregunta 2^a-2'5 puntos; pregunta 3^a-2'5 puntos; pregunta 4^a-2'5 puntos

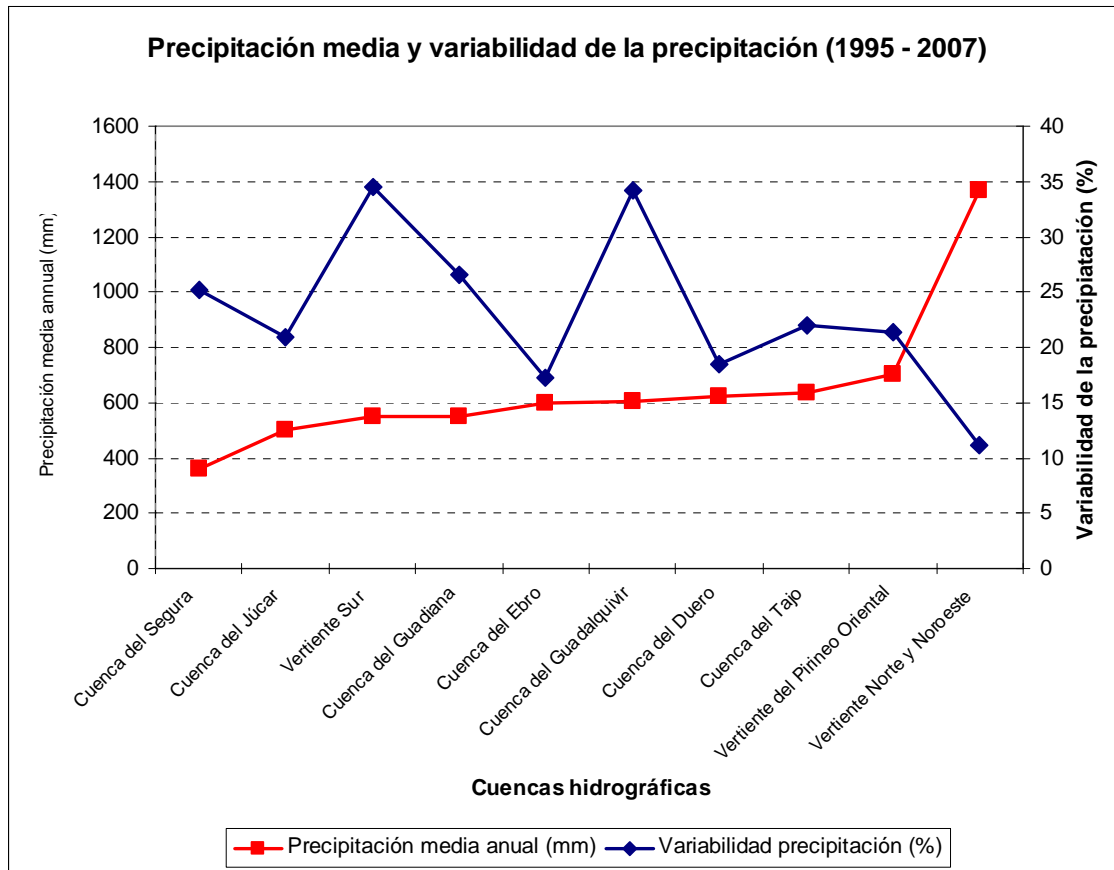
EJERCICIO 1

1. Nombre y localice sobre el mapa anexo los principales sistemas montañosos que enmarcan las cuencas del Guadalquivir, Duero, Guadiana y Ebro e indique cuáles de estos sistemas alcanzan altitudes superiores a los 3000 metros.
2. Apoyándose en la información del gráfico del documento 1, explique las principales diferencias que hay en el régimen de precipitaciones en las distintas cuencas españolas.
3. Explique qué factores meteorológicos y geográficos pueden ser la causa de dichas diferencias.
4. Analice los principales tipos de riesgos climáticos que afectan a España.

EXERCICI 1

1. Esmenteu i localitzeu sobre el mapa annex els principals sistemes muntanyencs que emmarquen les conques del Guadalquivir, Duero, Guadiana i Ebre, i indiqueu quins d'aquests sistemes arriben a altituds superiors als 3.000 metres.
2. Amb l'ajuda de la informació del gràfic del document 1, expliqueu les principals diferències que hi ha en el règim de precipitacions en les distintes conques espanyoles.
3. Expliqueu quins factors meteorològics i geogràfics poden ser la causa de les dites diferències.
4. Analitzeu els principals tipus de riscos climàtics que afecten Espanya.

DOCUMENT 1 / DOCUMENTO 1



Font/Fuente: INE y elaboración propia.

BAREM DE L'EXAMEN:

Pregunta 1ª-2'5 punts; pregunta 2ª-2'5 punts; pregunta 3ª-2'5 punts; pregunta 4ª-2'5 punts

BAREMO DEL EXAMEN:

Pregunta 1ª-2'5 puntos; pregunta 2ª-2'5 puntos; pregunta 3ª-2'5 puntos; pregunta 4ª-2'5 puntos

EJERCICIO 2

1. Construya un mapa de coropletas, con todos sus elementos, atendiendo al cuadro del Documento 1.
2. De acuerdo con el mapa resultante, indique las características de la distribución de la población en España y las causas recientes que la explican.
3. En el contexto demográfico, defina los conceptos de: a) densidad de población; b) “crecimiento real”; c) “*malthusianismo*” d) “transición demográfica” y e) “*baby boom*”.
4. Observe el mapa del Documento 2 y caracterice por grupos su distribución geográfica, el perfil de los inmigrantes así como las causas y consecuencias socioeconómicas de dicha inmigración.

EXERCICI 2

1. Construïu el mapa de coropletes, amb tots els elements, considerant el quadre del Document 1.
2. D'acord amb el mapa resultant, indiqueu les característiques de la distribució de la població a Espanya i les causes recents que l'expliquen.
3. En el context demogràfic, definiu els conceptes següents: a) densitat de població; b) “creixement real”; c) “*malthusianisme*”; d) “transició demogràfica”; e) “*baby boom*”.
4. Observeu el mapa del Document 2 i caracteritzeu per grups la seua distribució geogràfica, el perfil dels immigrants i les causes i conseqüències socioeconòmiques d'aquesta immigració.

DOCUMENT 1 / DOCUMENTO 1

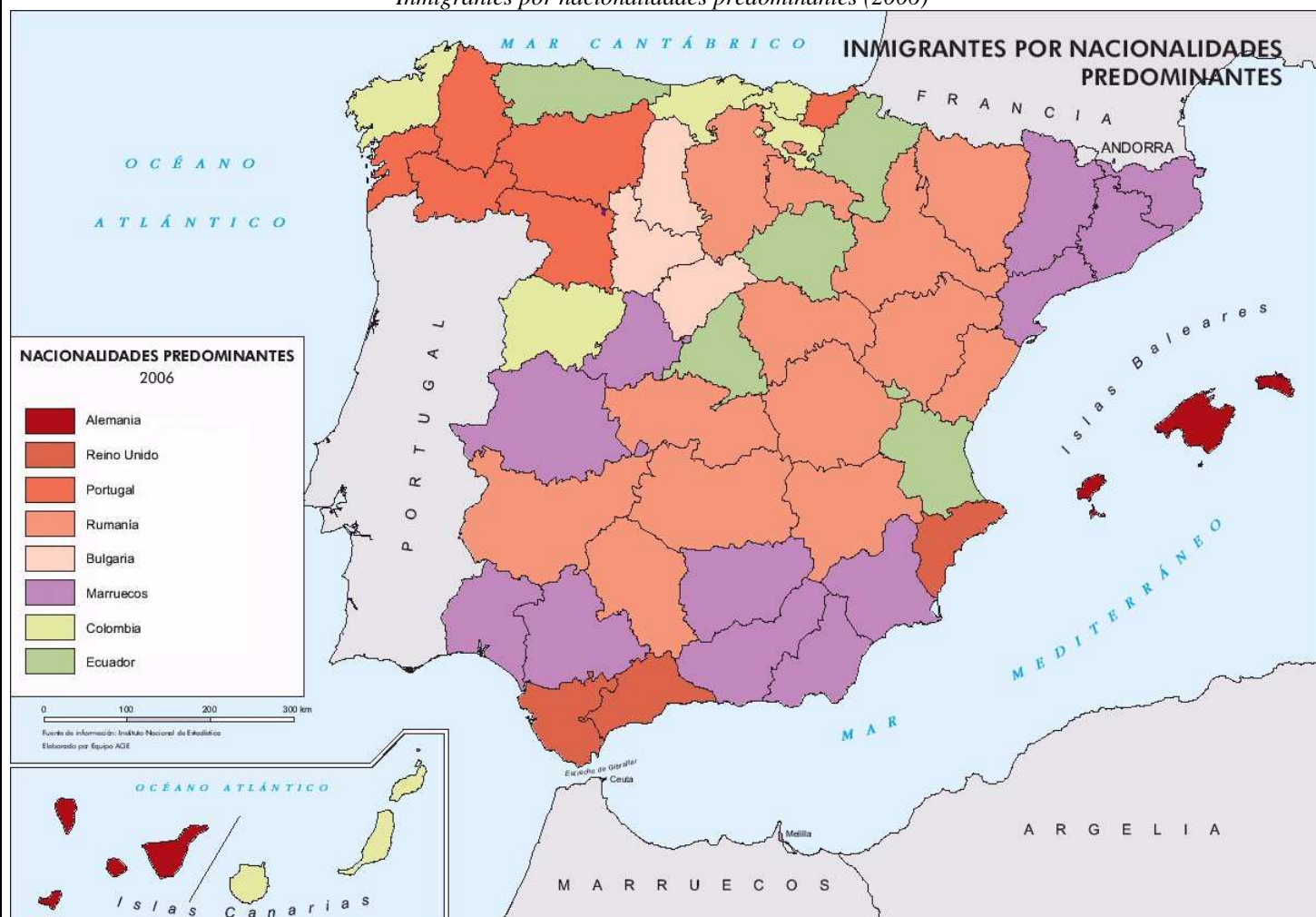
Densitat de població a Espanya (2009) per comunitats autònomes.
Densidad de población en España (2009) por Comunidades Autónomas.

CC.AA.	HAB/KM ²
ANDALUCÍA	94'95
CATALUÑA	232'52
MADRID, C. DE	796'20
VALENCIANA, C.	219'08
GALICIA	94'54
CASTILLA Y LEON	27'20
VASCO, P.	300'27
CANARIAS, I.	282'52
CAST.-LA MANCHA	26'19
MURCIA, R. DE	127'80
ARAGÓN	28'52
EXTREMADURA	26'48
BALEARES, I.	219'44
P. DE ASTURIAS	102'30
NAVARRA	64'30
CANTABRIA	112'20
RIOJA, LA	63'80
ESPAÑA	92'60

Font/Fuente: Padrón Población 1-1-2009. INE.

DOCUMENT 2 / DOCUMENTO 2

Immigrants per nacionalitats predominants (2006).
Inmigrantes por nacionalidades predominantes (2006)



Font/Fuente: Web del Instituto Geográfico Nacional (2010)

PROVES D'ACCÉS A LA UNIVERSITAT

PRUEBAS DE ACCESO A LA UNIVERSIDAD

CONVOCATÒRIA: JUNY 2010

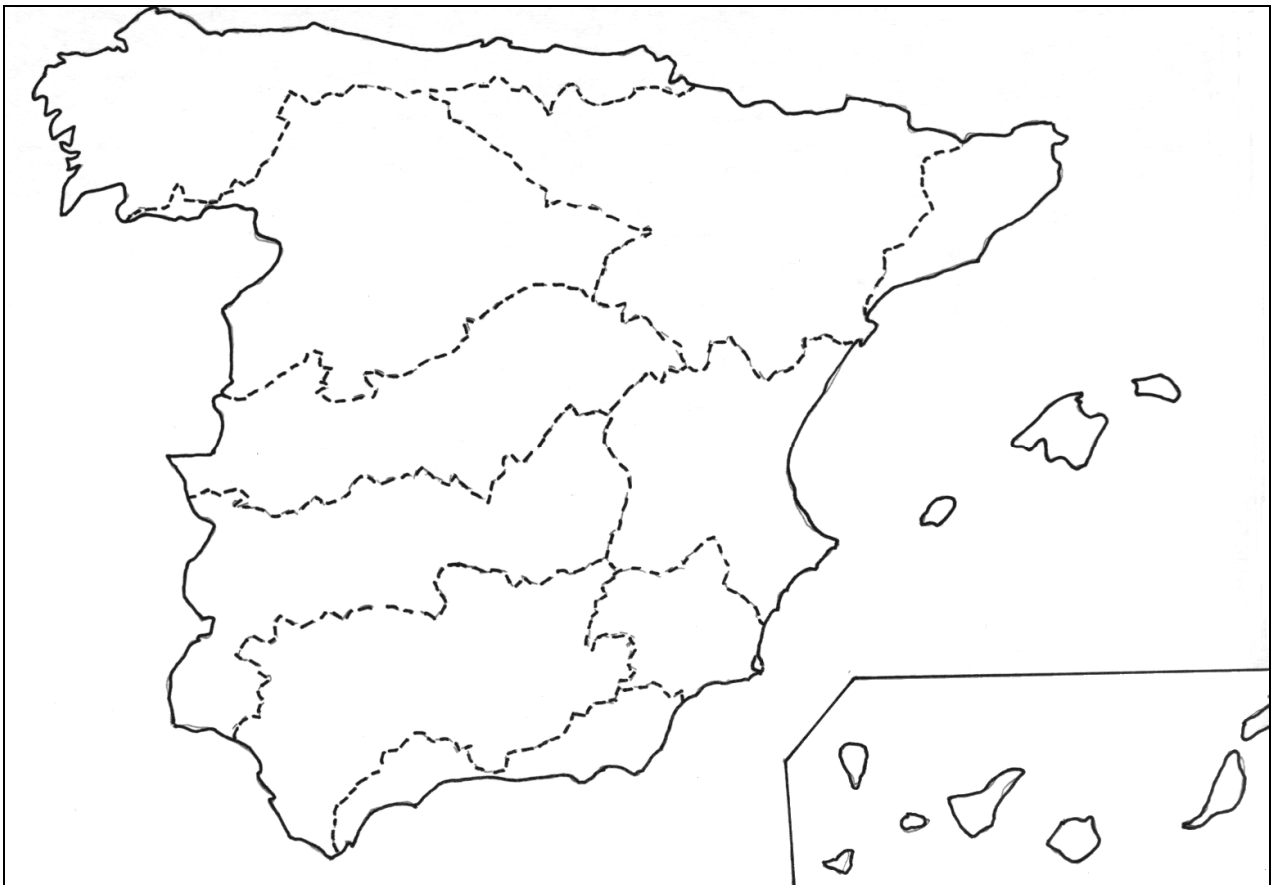
CONVOCATORIA: JUNIO 2010

GEOGRAFIA

GEOGRAFÍA

Etiqueta de l'estudiant /Etiqueta del estudiante

MAPA ANNEX / MAPA ANEXO



PROVES D'ACCÉS A LA UNIVERSITAT

PRUEBAS DE ACCESO A LA UNIVERSIDAD

CONVOCATÒRIA: JUNY 2010

CONVOCATORIA: JUNIO 2010

GEOGRAFIA

GEOGRAFÍA

Etiqueta de l'estudiant /Etiqueta del estudiante

PAPER ANNEX / PAPEL ANEXO

